



CADERNO DE PROVA GEOGRAFO

INSTRUÇÕES

- Você está recebendo do fiscal um Caderno de Prova com 40 (quarenta) questões numeradas sequencialmente que compõem a prova objetiva.
- Você receberá, também, a Folha de Respostas personalizada para transcrever as respostas das questões da prova objetiva.

ATENÇÃO

- 1- É proibido folhear o Caderno de Prova antes da autorização do fiscal.
- 2- Após autorização, verifique se o Caderno de Prova está completo, sem falhas de impressão e se a numeração está correta. Confira também se sua prova corresponde ao cargo para o qual você se inscreveu. Caso haja qualquer divergência, comunique o fato ao fiscal imediatamente.
- 3- Confira seu nome completo, o número de seu documento e o número de sua inscrição na Folha de Respostas. Caso encontre alguma divergência, comunique o fato ao fiscal para as devidas providências.
- 4- Você deverá transcrever as respostas das questões objetivas para a Folha de Respostas, que será o único documento válido para a correção das provas. O preenchimento da Folha de Respostas é de inteira responsabilidade do candidato.
- 5- Para realização da prova o candidato deverá utilizar caneta esferográfica transparente, com tinta de cor azul ou preta.
- 6- Leia atentamente cada questão da prova e assinale, na Folha de Respostas, a opção que a responda corretamente. Exemplo correto da marcação da Folha de Resposta:
- 7- A Folha de Respostas não poderá ser dobrada, amassada, rasurada ou conter qualquer marcação fora dos campos destinados às respostas.
- 8- Na correção da Folha de Respostas, será atribuída nota 0 (zero) às questões não assinaladas, que contiverem mais de uma alternativa assinalada, emenda ou rasura, ainda que legível.
- 9- Você dispõe de 03h30 (três horas e trinta minutos) para fazer a prova, incluindo a marcação da Folha de Respostas. Faça-a com tranquilidade, mas controle seu tempo.
- 10- Você somente poderá deixar definitivamente a sala de prova após 60(sessenta) minutos de seu início. Caso queira levar o caderno de prova, só poderá sair da sala após o término da prova, devendo, obrigatoriamente, devolver ao fiscal a Folha de Respostas devidamente assinada. As provas estarão disponibilizadas no site da FAFIPA (www.fafipa.org/concurso/), a partir da divulgação do Gabarito Preliminar.
- 11- Os 03 (três) últimos candidatos da sala só poderão sair juntos, após a conferência de todos os documentos da sala e assinatura da ata.
- 12- Durante a prova, não será permitida qualquer espécie de consulta ou comunicação entre os candidatos, nem a utilização de livros, códigos, manuais, impressos ou anotações, calculadoras, relógios, agendas eletrônicas, *paggers*, telefones celulares, BIP, *Walkman*, gravador ou qualquer outro equipamento eletrônico. A utilização desses objetos causará eliminação imediata do candidato.
- 13- Os objetos de uso pessoal, incluindo telefones celulares, deverão ser desligados e mantidos dessa forma até o término da prova e entrega da Folha de Respostas ao fiscal.
- 14- Qualquer tentativa de fraude, se descoberta, implicará em imediata denúncia à autoridade competente, que tomará as medidas cabíveis, inclusive com prisão em flagrante dos envolvidos.

Battisti por um fio
O Supremo julga refúgio ilegal e só uma rara
mudança de voto poderá impedir a extradição do
italiano

Adriana Nicacio

O italiano Cesare Battisti viu pela televisão, na Penitenciária de Brasília, suas esperanças caírem por terra na quarta-feira 9. Apontado pelo governo italiano como ex-terrorista, Battisti esperava que o Supremo Tribunal Federal (STF) validasse a decisão do ministro da Justiça, Tarso Genro, que lhe concedeu refúgio à revelia do parecer do Conselho Nacional de Refugiados (Conare).

Mas, por cinco votos a quatro, os ministros do STF consideraram o ato de Genro "ilegal e absolutamente nulo". E o pior ainda estava por vir. Depois dessa primeira votação, o tribunal passou a julgar se Battisti deve ser extraditado ou não para a Itália, onde foi condenado à prisão perpétua pelo assassinato de quatro pessoas.

Quando o placar registrava quatro a três contra Battisti, o ministro Marco Aurélio Mello pediu vistas e a votação foi suspensa, com previsão para recomeçar até o fim do mês. Mas, como Marco Aurélio praticamente revelou seu voto no debate da questão inicial, ocorrerá empate. Caberá, então, ao presidente do STF, Gilmar Mendes, o voto de Minerva. Tudo indica que Gilmar mandará Battisti de volta à Itália.

Diante do desfecho sombrio, a defesa de Battisti joga a esperança em filigranas jurídicas. Em entrevista à ISTOÉ, o advogado Luís Roberto Barroso afirmou que sua principal estratégia será convencer Gilmar Mendes a não desempatar a votação.

No apagar das luzes da sessão plenária do STF, ele subiu à tribuna e lançou a tese de que o pedido de extradição é análogo ao pedido de habeas-corpus. No caso do julgamento de habeas-corpus, o empate favorece o réu, sem a necessidade do voto do presidente do Supremo.

"Não há jurisprudência a respeito, mas a analogia é consistente", diz Barroso, explicando que no Direito a criatividade não tem limites. Se sua tese não for aceita e Battisti perder, Barroso pretende pedir clemência ao presidente Lula. "Não há precedente de nenhuma corte no mundo anular um ato político", ressalta o advogado.

Pode não haver precedente judicial, mas será muito difícil convencer o presidente a rever a decisão do STF. "O governo não vai afrontar o Supremo", confidenciou um ministro próximo de Lula. Se depender, porém, da opinião do ministro Genro, que ficou indignado com a decisão da maioria do STF e especialmente com o voto do ministro-relator Cezar Peluso, o Executivo não devia se sujeitar aos ditames do Judiciário. Para ele, o STF, ao invalidar seu ato, criou um precedente muito perigoso, capaz de afetar o equilíbrio entre os Três Poderes.

"Todos os pedidos de refúgio que foram concedidos até agora (pelo Executivo) poderão ser analisados pelo Supremo, que pode julgar nulos ou não os atos políticos de deferimento dos refúgios até agora proferidos", reclama Genro. Mas Mendes, do STF, diz que não há crise nenhuma.

"Muitas vezes nós declaramos a inconstitucionalidade de uma emenda constitucional aprovada por 400 votos da Câmara e mais de 70 e tantos votos no Senado. Isso nunca provocou celeuma, nenhuma escaramuça, a não ser aquela crítica, que é comum", diz Mendes. Na opinião de especialistas, o erro não foi do Supremo em

julgar, mas do próprio ministro da Justiça, ao não respeitar o parecer do Conare, que não viu os requisitos necessários à concessão do refúgio.

Agora, só resta à defesa de Battisti confiar numa alternativa: convencer Mendes ou outro ministro a mudar de idéia, depois que Marco Aurélio der seu voto-vista. Isso é raro, mas já aconteceu em outros julgamentos do STF.

Talvez surta efeito, da próxima vez, a mobilização de simpatizantes da causa, que levou um grupo ao STF com cartazes e gritos: "Liberdade a Cesare Battisti" e "Abaixo a repressão". Enquanto aguarda seu destino, Battisti diz ter medo de morrer.

"Assim que o assunto sair da mídia eu estou morto", disse o italiano a seu advogado logo depois do julgamento. E os lamentos se seguiram: "Nunca fui ouvido por um juiz na Itália e desafio a Itália a me levar a um novo julgamento imparcial." Condenado à prisão perpétua, Battisti está fora de seu país há 28 anos.

O governo italiano o considera um foragido e não refugiado. A Itália cobra do governo Lula o cumprimento do Tratado de Extradição, do qual o Brasil é signatário. E o Brasil, pela manifestação do STF, vai honrar o compromisso. Para desespero de Cesare Battisti

Disponível em

<http://www.terra.com.br/istoe/edicoes/2079/artigo151601-1.htm>

Acesso em 06 nov 2009.

Questão 01

Assinale a alternativa correta quanto ao conteúdo do texto.

- (A) A Itália espera que o governo Lula cumpra o Tratado de Extradição, do qual o Brasil é signatário.
- (B) Tarso Genro entende que a invalidação de seu ato criou um precedente muito perigoso.
- (C) Especialistas entendem que o erro não foi do Supremo em julgar, mas do próprio ministro da Justiça.
- (D) O advogado de Cesare Battisti tem como principal estratégia convencer Gilmar Mendes a não desempatar a votação.
- (E) O governo italiano considera que Cesare Battisti é um refugiado político e deve retornar à Itália.

Questão 02

"Battisti esperava que o Supremo Tribunal Federal (STF) validasse a decisão do ministro da Justiça, Tarso Genro, que lhe concedeu refúgio à revelia do parecer do Conselho Nacional de Refugiados (Conare)."

No período acima, os dois elementos destacados são, respectivamente,

- (A) pronome relativo e pronome relativo.
- (B) conjunção integrante e pronome relativo.
- (C) pronome relativo e conjunção integrante.
- (D) pronome expletivo e conjunção integrante.
- (E) conjunção integrante e pronome expletivo.

Questão 03

Assinale a alternativa INCORRETA quanto às formas verbais destacadas.

- (A) "Assim que o assunto sair da mídia eu estou morto..." (verbo de ligação)
- (B) "A Itália cobra do governo Lula o cumprimento do Tratado de Extradição..." (verbo transitivo direto e indireto)
- (C) "Para ele, o STF, ao invalidar seu ato, criou um precedente muito perigoso..." (verbo transitivo direto)
- (D) "O italiano Cesare Battisti viu pela televisão [...] suas esperanças caírem por terra..." (verbo transitivo indireto)
- (E) "Assim que o assunto sair da mídia eu estou morto..." (verbo intransitivo)

Questão 04

Em “Na opinião de especialistas, o erro não foi do Supremo em julgar, mas do próprio ministro da Justiça, ao não respeitar o parecer do Conare, que não viu os requisitos necessários à concessão do refúgio”, o valor lógico-semântico do fragmento destacado é o de

- (A) finalidade.
- (B) concessão.
- (C) tempo.
- (D) comparação.
- (E) causa.

Questão 05

Em “Quando o placar registrava quatro a três contra Battisti, o ministro Marco Aurélio Mello pediu vistas..., há, respectivamente,

- (A) uma oração subordinada adverbial temporal e uma oração principal.
- (B) uma oração subordinada adverbial temporal e uma oração subordinada substantiva subjetiva.
- (C) uma oração principal e uma oração subordinada adverbial final.
- (D) uma oração principal e uma oração subordinada substantiva objetiva direta.
- (E) uma oração subordinada adverbial consecutiva e uma oração principal.

Questão 06

Assinale a alternativa INCORRETA quanto à função sintática desempenhada pelas expressões em destaque.

- (A) “...disse o italiano a seu advogado...” (objeto indireto)
- (B) “Battisti está fora de seu país há 28 anos.” (sujeito)
- (C) “E o Brasil [...] vai honrar o compromisso.” (objeto direto)
- (D) “...ele subiu à tribuna...” (adjunto adverbial de lugar)
- (E) “O governo italiano o considera um foragido...” (predicativo do sujeito)

Questão 07

Assinale a alternativa que NÃO apresenta o valor lógico-semântico correto dos elementos destacados.

- (A) “Enquanto aguarda seu destino, Battisti diz ter medo de morrer.” (tempo)
- (B) “Se sua tese não for aceita e Battisti perder, Barroso pretende pedir clemência...” (condição)
- (C) “Assim que o assunto sair da mídia eu estou morto...” (causa)
- (D) “Pode não haver precedente judicial, mas será muito difícil convencer o presidente...” (adversidade)
- (E) “E o Brasil, pela manifestação do STF, vai honrar o compromisso.” (adição)

Questão 08

Todas as palavras abaixo apresentam o mesmo número de letras e de fonemas, EXCETO

- (A) foragido.
- (B) advogado.
- (C) analogia.
- (D) desfecho.
- (E) respeito.

Questão 09

Assinale a alternativa INCORRETA quanto ao que se afirma abaixo.

- (A) Em quatro, há dois dígrafos consonantais.
- (B) Em análogo, não há encontro consonantal nem vocálico.
- (C) Em respeitar, há um encontro vocálico.
- (D) Em honrar, há seis letras e quatro fonemas.
- (E) Em proferidos, há um encontro consonantal.

Questão 10

Assinale a alternativa cuja palavra NÃO apresenta dígrafo(s) em sua grafia.

- (A) Lamentos
- (B) Escaramuça
- (C) Conselho
- (D) Sessão
- (E) Terrorista

CONHECIMENTOS GERAIS E ATUALIDADES

Questão 11

A doutrina que prega o domínio do livre mercado sobre a economia, defendendo a diminuição do papel do Estado na vida econômica é conhecida por

- (A) comunismo.
- (B) neoliberalismo.
- (C) bolivarianismo
- (D) socialismo
- (E) globalização

Questão 12

O prêmio Nobel, criado pelo sueco Alfred Nobel, foi criado para distinguir “a pessoa que tivesse feito a maior, ou melhor, ação pela fraternidade entre as nações, pela abolição e redução dos esforços de guerra e pela manutenção e promoção de tratados de paz”. Em 2009, seu ganhador foi

- (A) George Bush.
- (B) Mahmoud Ahmadinejad.
- (C) Barack Obama.
- (D) Fidel Castro.
- (E) Luís Inácio Lula da Silva.

Questão 13

O maior país do continente africano é

- (A) Sudão.
- (B) Guiné Bissau.
- (C) Gabão.
- (D) Uganda.
- (E) Tunísia.

Questão 14

Iniciadas oficialmente em 2001, as negociações entre os países que formam a Organização Mundial de Comércio (OMC) a fim de liberalizar o comércio mundial ficaram conhecidas como

- (A) Rio 92.
- (B) Cúpula das Américas.
- (C) Protocolo de Kyoto.
- (D) Rodada de Doha.
- (E) Fórum social Mundial.

Questão 15

O maior expoente da música do modernista no Brasil, responsável pela consolidação da linguagem musical nacionalista e autor de músicas como O trenzinho Caipira, foi o compositor e maestro

- (A) Tom Jobim.
- (B) Di Cavalcanti.
- (C) Heitor Villa Lobos.
- (D) Oscar Niemeyer.
- (E) Gregório de Mattos.

Questão 16

Sobre a Região Sul do Brasil é **INCORRETO** afirmar que

- (A) é um grande polo turístico, econômico e cultural com forte influência europeia.
- (B) apresenta a maior taxa de alfabetização do país, com 94,8% da população alfabetizada.
- (C) possui o maior Índice de Desenvolvimento Humano - IDH do Brasil.
- (D) possui o maior PIB per capita do Brasil, com 13.208,00 reais.
- (E) compreende os Estados do Paraná, Santa Catarina e Rio Grande do Sul.

Questão 17

O Estado da Cidade do Vaticano é uma cidade-estado soberana, cujo território consiste de um enclave murado dentro da cidade de Roma, Itália. É o menor país do mundo, com aproximadamente 44 hectares de área e uma população de 800 habitantes. É um estado eclesiástico, governado pelo bispo de Roma, o Papa, sendo eleito por

- (A) um conselho multirracial de bispos.
- (B) um conselho de bispos delegados de cada continente.
- (C) um colégio de cardeais denominado conclave.
- (D) um colégio de arcebispos denominado conclave.
- (E) um colégio bicameral de arcebispos e cardeais denominado conclave.

Questão 18

Os combustíveis para automotor, fabricadas a partir de fontes renováveis no Brasil, são

- (A) petróleo e oleaginosas.
- (B) álcool e biodiesel.
- (C) álcool e petróleo.
- (D) álcool e energia elétrica.
- (E) álcool e energia nuclear.

Questão 19

O Brasil é um grande produtor e exportador de mercadorias de diversos tipos, principalmente commodities minerais, agrícolas e manufaturados. A agricultura e indústria encontram-se, atualmente, em expansão. Considerado um país emergente, a economia brasileira é

- (A) restrita aos países do Mercosul.
- (B) restrita às relações bilaterais com a economia norte-americana.
- (C) aberta e está inserida no processo de globalização.
- (D) fechada e voltada para o mercado interno.
- (E) fechada com forte investimento no agronegócio.

Questão 20

**“Já podeis, da Pátria filhos,
Ver contente a mãe gentil;
Já raiou a liberdade
No horizonte do Brasil.
Já raiou a liberdade
No horizonte do Brasil”.**

A estrofe acima faz parte do

- (A) Hino Nacional Brasileiro.
- (B) Hino da Bandeira.
- (C) Hino da Independência do Brasil.
- (D) Hino do Município de Bombinhas
- (E) Hino do Estado de Santa Catarina.

CONHECIMENTOS ESPECÍFICOS**Questão 21**

Muitas são as concepções de Geografia que foram espaço-temporalmente elaboradas, desde os gregos até os dias atuais. Podemos dizer que a despeito das diferenças entre elas, o ponto comum é que todas sempre se preocuparam com a localização dos fenômenos na superfície terrestre. O que se transforma espaço-temporalmente é a maneira de apreender, interpretar, ler, e representar as ordenações espaciais. Sobre a evolução do pensamento Geográfico, analise as assertivas a seguir e assinale a alternativa correta.

- I. Os alemães justificavam o possibilismo a partir da busca pelo espaço vital, situação ideológica relacionada com o avanço do Nazismo apregoado por Adolf Hitler.
- II. A Geografia Crítica no Brasil teve grande contribuição de Milton Santos, com uma das propostas mais amplas e acabadas desta tendência geográfica.
- III. Paul Vidal de La Blache foi o grande idealizador de uma grande escola da Geografia dentro da França, sua proposta criticava a minimização do elemento humano, que aparecia como passivo nas teorias de Ratzel.
- IV. Há uma tendência atual para o desenvolvimento da Geografia Cultural, também caracterizada como a “Geografia dos sentidos”.

- (A) Apenas I e II.
- (B) Apenas II e III.
- (C) Apenas II, III e IV.
- (D) Apenas I, III e IV.
- (E) I, II, III e IV.

Questão 22

A quantidade de radiação solar incidente sobre o topo da atmosfera da Terra depende principalmente do período do ano, do período do dia e da latitude. Os três fatores em destaque tem íntima relação com a obliquidade da eclíptica. (adaptação AYOADE. J. O. Introdução à Climatologia para os Trópicos, 2002). Sobre o tema em destaque e fatores relacionados ao mesmo, analise as assertivas e assinale a alternativa correta.

- I. O período dos solstícios, caracteriza-se como os principais momentos em que o homem busca artificializar mais o espaço para viver sem incômodo.
- II. As estações do ano são bem definidas na região Sul do Brasil, onde o verão é extremamente quente e o inverno é rigoroso e marcado pela precipitação não superficial de geadas.
- III. Apesar do Afélio e Periélio influenciarem no recebimento de energia no SSA (Sistema Superfície, Atmosfera) da Terra, eles não tem ligação direta com as estações do ano.
- IV. A ocorrência de atmosfera no planeta Terra gera a possibilidade do equilíbrio térmico, situação fundamental para o desenvolvimento da vida.

- (A) Apenas I, III, IV.
(B) Apenas II, III e IV.
(C) Apenas I, II e III.
(D) Apenas I, II e IV.
(E) I, II, III e IV.

Questão 23

Em uma mistura dos filmes: Titanic, O Núcleo, O dia depois de Amanhã, Poseidon, dentre outros do Gênero catastrófico, lançado no mês de novembro no Brasil, 2012, é caracterizado como uma obra de ficção, baseada na teoria do calendário Maia. O filme tem gerado muita polêmica, embora chame mais a atenção pela obra da computação gráfica, no que tange aos efeitos especiais, do que pela sugestão do fim dos tempos. Dentro da proposta apresentada pelo filme 2012 está à dinamicidade crustal que dentro do tempo geológico já sofreu alterações. A crosta já formou uma única massa continental, regiões emersas já foram imersas, e imersas emergiram dentro de um histórico de formação da Terra. Sobre a dinâmica da crosta e fatores ligados a mesma, podemos afirmar que

- (A) o oceano Atlântico vem sofrendo alargamento, tal fato se justifica pela região de subducção, convergência, que tem como área de ocorrência os limites das placas tectônicas da América do Sul e África.
- (B) fotos de satélite podem comprovar a dinamicidade da crosta, mostrada pelas cinzas vulcânicas emitidas por vulcões em atividades, o encaixe perfeito de alguns continentes e a convergência e divergência entre placas que compõem a crosta.
- (C) todo terremoto é sentido automaticamente pela população, já que se trata de vibrações naturais da crosta. Eles são medidos pela escala Richter, que tem por base a avaliação do homem na determinação dos níveis do fenômeno.
- (D) a grande maioria dos vulcões tem aquela forma clássica de cone e sua maioria ocorre nas partes internas dos continentes. Um exemplo desta manifestação endógena ocorreu durante a era Mesozoica, em partes da região Centro-Sul do Brasil.

- (E) os vulcões são sinônimos de catástrofe e destruição, não trazendo qualquer tipo de benefício para a sociedade mundial.

Questão 24

Para os cartógrafos, os mapas são veículos de transmissão do conhecimento. Eles são representações gráficas de determinado espaço geográfico, concebidos para transmitir a visão subjetiva ou o conhecimento de alguém ou de poucos para muitos. Esse conhecimento pode ser o mais amplo e variado possível ou o mais restrito e objetivo possível. Então, cada mapa tem um autor, uma questão e um tema. (RUTH E. NOGUEIRA LOCH, Cartografia-Representação, Comunicação e Visualização de Dados Espaciais, p. 33). Sobre estudos voltados a cartografia, ciência ligada diretamente a Geografia, analise as assertivas e assinale as alternativas com sequência correta.

- I. Quanto maior o denominador de uma escala, maior será a riqueza de detalhes e maior será a escala do mapa.
- II. Quanto maior for o espaçamento entre as curvas de nível em uma carta topográfica, menor será a declividade representada do terreno.
- III. Dentro da semiologia gráfica, utilizada na elaboração de legendas de mapas, as cores só podem representar quantidade.
- IV. As coordenadas geográficas podem ser definidas como um ponto gerado a partir do cruzamento entre um paralelo com um meridiano.

- (A) Apenas I e II.
(B) Apenas II e III.
(C) Apenas III e IV.
(D) Apenas II e IV.
(E) Apenas I, II e IV.

Questão 25

Possivelmente um bom aluno de Geografia nos dias de hoje, deve

- (A) saber descrever a paisagem, delimitar as regiões do IBGE e, a saber, todas as capitais dos Estados da Federação.
- (B) saber compreender o mundo em que vive, sempre partindo do local para o global, interpretando acontecimentos e mudanças climáticas, buscando influenciar de maneira consciente na organização do meio.
- (C) saber desenhar mapas com capricho, criando legendas e sabendo repetir tais feitos na prova.
- (D) interpretar situações, analisar fatos, relacionar o cotidiano, entendendo a organização do espaço a partir da ação do homem.
- (E) saber decorar o questionário elaborado pelo professor que vão ao encontro dos capítulos do livro didático.

Questão 26

Assinale a alternativa correta. A respeito dos aspectos naturais, sócio-econômicos e geopolíticos da América do Sul.

- (A) A Venezuela é governada pelo presidente Hugo Chaves que vem realizando uma transformação social e econômica naquele país. Devido aos altos preços do petróleo, seu principal produto de exportação, o país se destaca como um dos mais industrializados da região.
- (B) Evo Morales, atual presidente boliviano, vem transformando a economia da Bolívia. O país possui enormes reservas de gás natural, cujos dividendos tem sido aplicados em investimentos industriais, o que tem acarretado enormes taxas de crescimento econômico.
- (C) Alguns países sul-americanos são considerados Andinos, ou seja, parte de seu território é atravessado pela Cordilheira dos Andes. Essa cordilheira se localiza de norte a sul da região e engloba o Chile, a Bolívia, o Peru, o Equador, a Colômbia e a Venezuela.
- (D) O MERCOSUL – Mercado Comum do sul - corresponde a um bloco econômico no qual ocorre uma livre circulação de mercadorias, capitais e pessoas. É formado pelo Brasil, o Uruguai, a Argentina, a Colômbia, o Peru e a Venezuela.
- (E) O Brasil, além de ser o país mais populoso da América do Sul, é também o de maior extensão territorial. Apresentando mais de 8,5 milhões de quilômetros quadrados, o país faz fronteiras com todos os países sul americanos.


Questão 27

“Com o fim da bipolaridade e da Guerra Fria, afirmou-se que as guerras iriam diminuir ou até acabar. Mas o que se observa, desde 1991, é que não ocorreu nenhuma diminuição dos conflitos armados no mundo. Pelo contrário, eles parecem ter aumentado, pelo menos momentaneamente”.[...] VESENTINI, José Willian – Geografia Geral e do Brasil – Ed. Ática – São Paulo, 2008. Sobre os conflitos do século XXI, assinale a alternativa correta.

- (A) Atualmente, os países possuem arsenais nucleares, químicos e biológicos. O principal motivo das invasões americanas no Iraque e no Afeganistão foi destruir o arsenal químico e nuclear dos dois países do Oriente Médio.
- (B) Na América do Sul, há um acordo entre o Brasil, a Argentina e a Venezuela para a construção de armas nucleares. A recente visita do presidente do Irã, Mahmoud Ahmadinejad, ao Brasil, confirma essa tese, uma vez que o país faz parte do chamado “clube atômico”, ou seja, o conjunto de nações que dispõem de bombas nucleares.
- (C) Na atual era da informação, é muito comum a chamada “guerra cibernética”. Essa “guerra” é composta por grupos de *hackers* que invadem as redes de computadores e espalham vírus capazes de parar, por exemplo, o funcionamento de satélites que detectam a localização de depósitos de armamentos.
- (D) Na Ásia, o principal foco de tensão atual é entre a China e o Paquistão. Ambos possuem armamentos nucleares e disputam a Caxemira, região situada nas altas montanhas do Himalaia.
- (E) No Oriente Médio, o conflito em destaque é entre os muçulmanos de Israel e os judeus da Palestina. Israel é um país que faz parte do “clube atômico” e é incentivado pelo terrorista Osama Bin Laden a lançar uma bomba atômica na Palestina.

Questão 28

O infográfico a seguir foi publicado pela revista *Veja* em 11/04/07. Analisando-o, quando necessário, assinale a alternativa correta sobre os recursos naturais do planeta e as consequências de seu uso indiscriminado.



- (A) Os recursos naturais são todos os bens fornecidos pela natureza e são classificados em renováveis e não renováveis. Os solos, os combustíveis fósseis e a água, são considerados renováveis, ou seja, são possíveis de renovação através de certas técnicas utilizadas pelo homem.
- (B) De acordo com o infográfico, conclui-se que, para não faltar água potável e petróleo no planeta é necessário controlar a natalidade nos países mais pobres como a Índia e a China, pois o mundo vive uma atual explosão demográfica.
- (C) Ao queimarmos os combustíveis fósseis, como por exemplo, o carvão mineral e o petróleo, liberamos o CO₂ (Dióxido de Carbono) na atmosfera terrestre. Esse gás é o responsável pelo agravamento do “buraco” na camada de Ozônio e também o principal responsável pelas chuvas ácidas.
- (D) O infográfico afirma que o atual nível de consumo de algumas nações ricas é insustentável ecologicamente. Caso os países em desenvolvimento, passem a adotar o mesmo padrão de consumo das nações mais ricas, não haverá recursos naturais para sustentar esse atual modelo econômico.
- (E) Por possuir a maior reserva de água doce do mundo, o Brasil dificilmente será afetado pela escassez desse mineral. O Aquífero Guarani e os rios da bacia Amazônica garantem o abastecimento de água em todo o território nacional.

Questão 29

Leia o fragmento de texto a seguir que foi publicado pela revista *Veja* em 16 de abril de 2008.

“Duzentos anos atrás, apenas 3% da população mundial vivia em cidades. Há um século, na esteira da Revolução Industrial, a porcentagem tinha subido para 13% – ainda uma minoria em um planeta essencialmente rural. Em algum momento deste ano, de acordo com estimativas das Nações Unidas, pela primeira vez na história o número de pessoas que vivem em áreas urbanas ultrapassará o de moradores do campo. Segundo o mesmo estudo, nas próximas décadas praticamente todo o crescimento populacional do planeta ocorrerá nas cidades, nas quais viverão sete em cada dez pessoas em 2050.[...]”

Com base no fragmento do texto, quando necessário, assinale a alternativa correta a respeito da urbanização mundial.

- (A) Durante os séculos XVIII e XIX, auge da Revolução Industrial, as principais cidades dos atuais países desenvolvidos europeus tiveram um crescimento lento e ordenado. Londres e Paris, as duas megacidades europeias daquele período, não apresentavam problemas como a falta de saneamento básico e as submoradias.
- (B) O atual crescimento urbano provocou o surgimento das megalópoles, ou seja, as cidades que já ultrapassam 10 milhões de habitantes. A maioria das megalópoles do mundo estão localizadas nos países desenvolvidos como, por exemplo, as cidades de Tóquio, no Japão, e Nova Iorque, nos Estados Unidos.
- (C) A China e a Índia são os países mais urbanizados do mundo, pois a população de ambos já ultrapassa 1 bilhão de habitantes. Xangai, na China, e Mumbai, na Índia, estão entre as cidades mais populosas do mundo.
- (D) No atual estágio da globalização, algumas cidades do planeta passaram a ser reconhecidas como cidades globais, ou seja, estendem sua influência econômica em escala mundial. Londres, no Reino Unido, Tóquio, no Japão e São Paulo, no Brasil, são exemplos de cidades globais.
- (E) Com o grande crescimento das metrópoles mundiais, surgiu o fenômeno da conurbação. Esse fenômeno ocorre quando grande parte da população urbana habitam em uma ou duas cidades mais importantes de um determinado país.

Questão 30

Leia o fragmento de texto a seguir:

“Dez anos depois do maior blecaute da história do país, em março de 1999, o Brasil viveu ontem uma pane semelhante, que afetou oficialmente nove Estados e o Distrito Federal e durou mais de três horas. O problema, que começou às 22h13 e não havia sido totalmente resolvido até as 2h, teria sido causado por falha no sistema de Furnas, que parou a hidrelétrica de Itaipu e deixou até o Paraguai sem luz.[...] Jornal Folha de São Paulo, 11/11/09 – Caderno Cotidiano.

Sobre a produção de energia hidroelétrica no Brasil, bem como as vantagens e desvantagens dessa fonte de energia, assinale a alternativa correta.

- (A) O Brasil é um país auto-suficiente em energia hidroelétrica. Tanto o blecaute de 1999 como o recente “apagão”, mencionados no texto, foram causados por mudanças climáticas que atingiram as linhas de transmissão de energia, na região da hidroelétrica de Itaipu.
- (B) Uma das vantagens da energia hidroelétrica é o fato de ser considerada uma fonte energética completamente limpa e barata. Como o Brasil dispõe de um grande número de rios, sobretudo nas bacias do Paraná e Amazônica, a produção de energia hidroelétrica no Brasil é uma das menos onerosas do mundo.
- (C) Uma das desvantagens na construção de hidroelétricas é o espaço que ocupa com o lago artificial imposto pela construção da usina. Na bacia do rio Paraná é muito comum inundações de grande extensão, enquanto na bacia Amazônica, as inundações são pouco extensas, devido o relevo planáltico da região.
- (D) A hidrelétrica de Itaipu, a maior do planeta, fornece energia para quase todos os estados brasileiros e o Distrito Federal. Ela foi construída no rio Iguaçu e seu enorme lago artificial cobriu os famosos saltos de Sete Quedas, que atraía milhares de turistas.
- (E) O Brasil é um dos cinco países do mundo que pode explorar a produção de energia hidroelétrica, por possuir uma extensa rede de rios caudalosos e planálticos. Em contrapartida, é necessário, em muitos casos, a construção de extensas redes de transmissão da energia gerada, até o local de consumo.

Questão 31

Com a intensificação da Globalização, foi criada a expressão “terceiro setor” para diferenciar as organizações sem fins lucrativos, dos chamados “primeiro setor” (o Estado) e o “segundo setor” (o mercado). Sobre o chamado “terceiro setor”, analise as assertivas e assinale a alternativa que aponta a(s) correta(s).

- I. O terceiro setor é constituído por movimentos ou organizações privadas sem fins lucrativos que têm como objetivo lutar por uma causa ou promover a expansão cultural, política ou econômica do local ou do setor para o qual atuam.
- II. Cooperativas, clubes, associações, igrejas e principalmente, nos dias de hoje, as ONGs(Organizações Não governamentais) são exemplos do terceiro setor.
- III. A corrupção também chegou ao terceiro setor, pois há algumas organizações que fingem não ter fins lucrativos ou promover algum serviço humanitário e que, no entanto,

são apenas instrumentos para o enriquecimento de alguns indivíduos.

- IV. A Anistia Internacional, a Cruz Vermelha Internacional, os Amigos da Terra, a OMCT (Organização Mundial Contra a Tortura), os Médicos Sem Fronteiras, a Comissão Internacional de Juristas, Greenpeace, a Transparência Internacional, dentre outras, são exemplos de ONGS que atuam no planeta.

- (A) Apenas I e II.
- (B) Apenas II e IV.
- (C) Apenas II, III e IV.
- (D) Apenas I e IV.
- (E) I, II, III e IV.

Questão 32

“Com o desenvolvimento da globalização e da economia informacional, estão ocorrendo mudanças importantes na vida das pessoas, empresas e nações. Para os trabalhadores, ao mesmo tempo que o mercado exige profissionais mais qualificados, aumenta o desemprego, os salários estão estagnados e as relações flexíveis de trabalho são cada vez mais comuns”. [...] MOREIRA, João Carlos e SENE, Eustáquio de – Geografia Geral e do Brasil – Ed. Scipione – São Paulo, 2008.

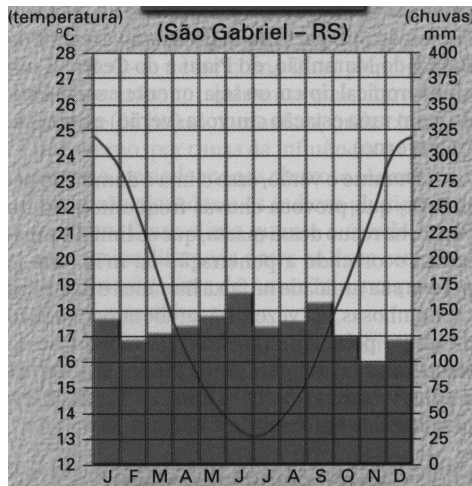
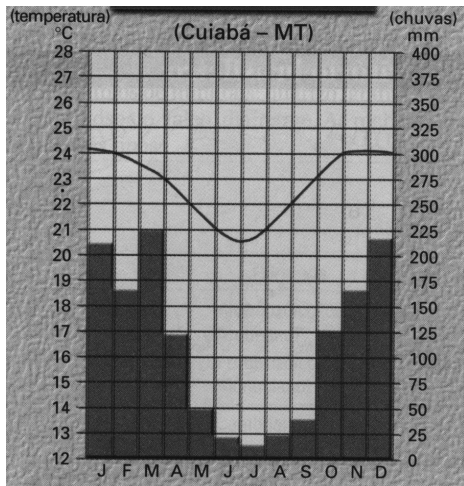
Tomando como base, o fragmento do texto e sobre as novas relações no mundo do trabalho analise as assertivas e assinale a alternativa correta.

- I. As novas relações de trabalho têm provocado aumento da concentração de renda nos países desenvolvidos e a degradação da qualidade de vida de setores importantes da população. A exceção é o Japão, no qual muitos empregos ainda são vitalícios.
- II. A atual globalização da economia criou o chamado desemprego estrutural. Ele é muito comum em países cujas empresas investem em informatização e robótica, que tende a fragilizar a ação dos sindicatos e diminuir a força dos empregados em processos de negociação salarial.
- III. Conforme o enunciado, as relações de trabalho estão cada vez mais flexíveis, sobretudo nos países desenvolvidos. Na Alemanha, França e Estados Unidos, por exemplo, os sindicatos trabalhistas estão cada dia mais atuante, o que obriga os patrões serem mais flexíveis com seus funcionários.
- IV. Com a revolução tecnológica, muitas profissões estão desaparecendo, como por exemplo, o datilógrafo, a telefonista, o operador de telex. Entretanto, estão surgindo novas profissões *Web designer*, *Webmaster* e gerente de *marketing on line*, entre outras.

- (A) Apenas I e II.
- (B) Apenas II e IV.
- (C) Apenas II, III e IV.
- (D) Apenas I e IV.
- (E) I, II, III e IV.

Questão 33

Analise a imagem abaixo e assinale a alternativa correta.




Fonte: VESENTINI, J. Willian – Geografia do Brasil – Ed. Ática – São Paulo, 2001

- (A) De acordo como os climogramas, conclui-se que em Cuiabá o clima possui uma maior amplitude térmica. Isso explica as altas temperaturas registradas durante o ano todo na capital do Mato Grosso.
- (B) Da leitura dos climogramas, depreende-se que em Cuiabá o clima é o Tropical Típico ou semi-úmido e em São Gabriel, o tipo climático é o Subtropical.
- (C) O climograma de Cuiabá apresenta as características do clima Equatorial. Esse tipo climático apresenta médias térmicas mensais que ultrapassam os 24° C e abundantes precipitações no decorrer do ano, intercalada por uma estação seca bem curta.
- (D) Quando comparado com o climograma de Cuiabá, podemos afirmar que o tipo climático de São Gabriel apresenta uma pequena amplitude térmica e um índice muito pequeno de chuvas, no decorrer do ano.
- (E) O climograma de São Gabriel apresenta as características do clima Temperado. No Rio Grande do Sul, esse tipo climático frio é o responsável pela definição das quatro estações do ano.

Questão 34

Analise as pirâmides etárias abaixo, e assinale a alternativa correta a respeito da dinâmica da população Brasileira.



Fonte: Diretoria de Pesquisas, IPEA. In: Veja (São Paulo), 13 ago. 1997, p.33-4.

- (A) As pirâmides etárias afirmam que, nas últimas décadas, o declínio das taxas de crescimento vegetativo e o aumento da expectativa de vida do brasileiro, vêm promovendo mudanças aceleradas na composição etária da população.
- (B) A taxa de crescimento vegetativo ou natural corresponde à diferença entre nascimentos e óbitos verificada numa população em determinado período. Da leitura das pirâmides etárias do Brasil, conclui-se que o crescimento vegetativo tem aumentado a cada dia em nosso país.
- (C) De acordo com a estimativa para o ano 2020, o Brasil terá aumentado a sua população absoluta e relativa e será o terceiro país mais populoso e povoado do mundo.
- (D) As estimativas para o ano 2020 indicam que o Brasil terá um número expressivo de jovens em sua população. Esse fato irá permitir a criação de oportunidades no mercado de trabalho, pois para o país ser uma futura “potência” econômica, será necessário muita mão-de-obra.
- (E) De acordo com as pirâmides etárias, nota-se que, em todos os períodos representados, a expectativa de vida masculina é e será superior à feminina.

Questão 35

Assinale a alternativa **INCORRETA** a respeito das atividades agropecuárias no Brasil.

- (A) O Brasil possui uma das agropecuárias mais modernas do mundo, altamente produtiva e lucrativa. Isso explica o fato de que quase 40% do PIB (Produto Interno Bruto) estar atrelado a atividades agropecuárias.
- (B) O Brasil apresenta grandes possibilidades de aumentar sua participação no comércio mundial de produtos agrícolas. Para tanto, é preciso que as pequenas e as médias propriedades tenham acesso a assistência técnica e financiamentos para ingressarem na arena dos agronegócios.
- (C) Nas últimas décadas, verificou-se no Brasil um enorme crescimento da área cultivada com produtos agroindustriais de exportação, como por exemplo a soja, laranja, café e cana-de-açúcar, em detrimento de cultivos voltados ao abastecimento interno, como o arroz, o feijão e a mandioca.
- (D) A modernização do setor agropecuário obteve como consequência uma completa subordinação da agropecuária ao capital industrial. Outra consequência foi a valorização das terras agricultáveis, que promove a concentração das propriedades rurais e a intensificação do êxodo rural.
- (E) O Brasil possui uma posição importante no mercado mundial como exportador de alguns produtos grícolas, como o café, açúcar, soja e suco de laranja. Entretanto, para abastecer o mercado interno de consumo, o país necessita importar alguns produtos, como por exemplo o trigo.

Questão 36

Sobre os conceitos discutidos e trabalhados dentro da Geografia, analise as assertivas e assinale a alternativa correta.

- I. O estudo do lugar deve estar relacionado a situações próximas dos alunos, onde eles têm referências, contato direto.
- II. A paisagem é o conjunto de tudo o que existe, desde que não tenha alteração antrópica do espaço.
- III. Território é um conceito que se restringe aos limites naturais de uma nação.
- IV. Um rio pode ser considerado o território onde desenvolve a pesca de uma espécie de peixe em uma região.
- (A) Apenas II e III.
 (B) Apenas II e IV.
 (C) Apenas I e IV.
 (D) Apenas I, II e III.
 (E) Apenas II, III e IV.

Questão 37

Com base no mapa e conhecimentos voltados a cartografia, assinale a alternativa correta.



(www.hoteisepousadasbombinhas.com.br/.../ acesso – 20/11/2009)

- (A) Se 1cm do mapa representasse 500m poderíamos concluir que uma escala numérica do mesmo poderia ser representada por 1: 500.000.
- (B) A rodovia 101 é caracterizada como longitudinal seguindo o sentido Leste-Oeste.
- (C) A praia da Conceição está na direção Boreal da praia de Mariscal.
- (D) A Praia de Quatro ilhas está na direção de um ponto colateral da Praia da Sepultura.
- (E) O Estado de Santa Catarina pode ser representado em um mapa com latitude na direção Oeste e longitude com direção Sul.

Questão 38

“ Bulgária e Romênia receberam ontem sinal verde para aderir à União Européia no dia 1º de janeiro de 2007, mas terão de se submeter às condições mais rígidas de adesão já impostos a países candidatos desde o início da expansão do bloco. A decisão deve ser ratificada em outubro pelos Estados-membros. Em relatório divulgado ontem, a Comissão Européia -o Executivo da UE- considerou que os dois países dos Balcãs progrediram desde sua última avaliação, em maio, e estão aptos a se juntar aos outros 25 membros do bloco[...]- 27/09/2006 Folha de São Paulo.

Sobre a geopolítica relacionada ao bloco econômico destacado no fragmento de texto acima, é correto afirmar que

- (A) o Euro é considerado uma moeda forte que tem livre circulação por todos os países da Europa.
- (B) os novos países membros da União Européia apresentam economias capitalistas bem estruturadas e são tidos como países desenvolvidas da Europa Ocidental.
- (C) a União Européia reúne todos os países da Europa Ocidental em um único bloco, onde há sobretudo intercâmbios tecnológicos, culturais.
- (D) não se utilizando de políticas protecionistas a União Européia tem amplo comércio com outros blocos econômicos mundiais, assegurando assim, acesso a produtos e serviços de várias regiões do mundo.
- (E) a UE é chamada também de grupo dos 27.

Questão 39**O muro de Berlim.**

Na realidade o muro de Berlim não desabou em um único dia, muito menos numa só estação, a crise na Alemanha Socialista começou anos antes dos drásticos acontecimentos de 1989. A muitos quilômetros de distância com a Perestroika e a Glasnost da URSS. Quando o descontentamento na Alemanha Oriental se transformou num movimento de massa o povo sabia que minha política de “liberdade de escolha” não era só um slogan publicitário.

(adaptação- Mikhail Gorbachev, nas comemorações de dez anos da queda do muro de Berlim, 7 de novembro de 1999).

Sobre as mudanças que se processaram pelo mundo com a transição das economias socialistas, analise as assertivas e assinale a alternativa que aponta a(s) correta(s).

- I. A transição para o capitalismo tem trazido sérios problemas políticos, econômicos e sociais aos países ex-socialistas.
- II. Completada sua transição para a economia de mercado, a Rússia figura entre os cinco países mais desenvolvidos do mundo.
- III. Os países do Leste-europeu apresentaram muita facilidade, no que tange a adaptação, as regras liberais do mercado capitalista.
- IV. A transição do socialismo para o capitalismo gerou uma nova ordem mundial, agora chamada de multipolar.

- (A) Apenas I e II.
- (B) Apenas III e IV.
- (C) Apenas II e III.
- (D) Apenas II e IV.
- (E) Apenas I, IV.

Questão 40

Com base no mapa dos domínios morfoclimáticos, assinale a alternativa correta.



Adaptado de: SIMIELLI, Maria Elena. *Geoatlas*. São Paulo: Ática 2000. p.81.

- (A) O domínio de número 1 retrata a floresta Equatorial. Sua área de ocorrência se restringe a América Latina onde os solos são bem desenvolvidos e ricos em nutrientes.
- (B) A mata de Araucária é representada no mapa pelo número 5, típica da região Sul, ocorre em regiões mais frias, devido às altas altitudes.
- (C) O número 2 representa o Cerrado, vegetação típica do Brasil Central onde ocorre, de alto índice pluviométrico, bem distribuída ao longo do ano. Atrelado ao avanço da Massa Polar Atlântica durante o inverno, ocorre os períodos de grande desconforto térmico e baixa umidade relativa do ar.
- (D) A caatinga caracteriza-se como uma vegetação de porte arbóreo que se adapta bem ao baixo índice pluviométrico e as altas amplitudes térmicas.
- (E) Os campos, número 6 do mapa, só ocorrem no Extremo Sul do Brasil, região onde há maior concentração de gado de corte do país.

